

TRƯỜNG TIỂU HỌC NGỌC HỒI

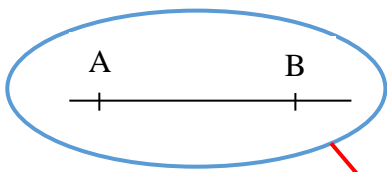
Họ và tên:

Lớp: HAI/

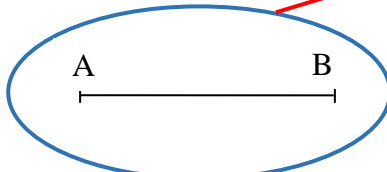
TOÁN

Ôn tập về hình học

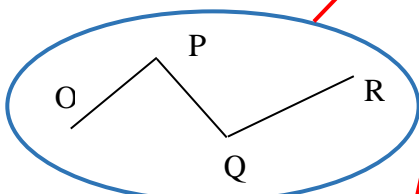
Bài 1: Mỗi hình sau ứng với tên gọi nào?



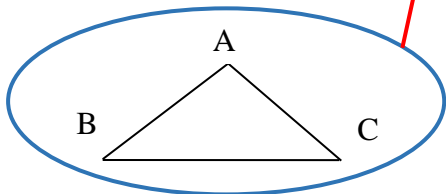
A



B

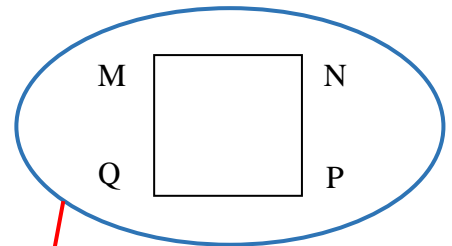


C

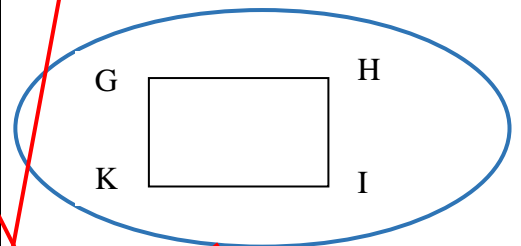


D

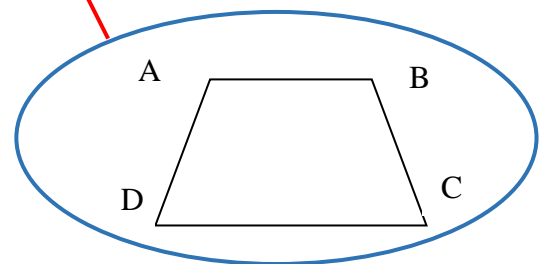
- | |
|---------------------|
| Đoạn thẳng AB |
| Đường thẳng AB |
| Đường gấp khúc OPQR |
| Hình tam giác ABC |
| Hình tứ giác ABCD |
| Hình vuông MNPQ |
| Hình chữ nhật GHIK |



E

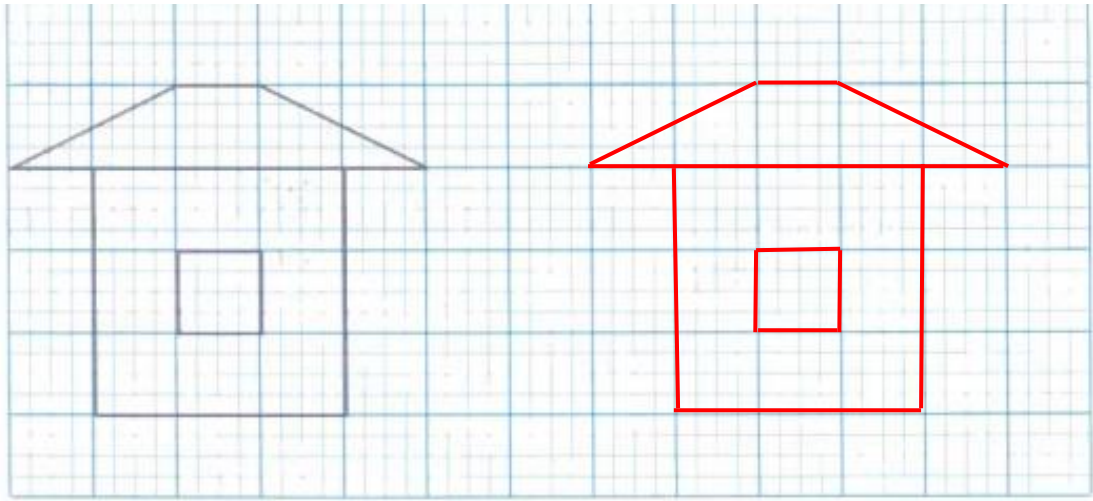


G



H

Bài 2: Vẽ hình theo mẫu:



Bài 3: Trong hình vẽ bên có:

a) **Mấy hình tam giác? Có 3 hình tam giác.**

b) **Mấy hình chữ nhật? Có 3 hình chữ nhật.**

