

TRƯỜNG TIỂU HỌC NGỌC HỒI

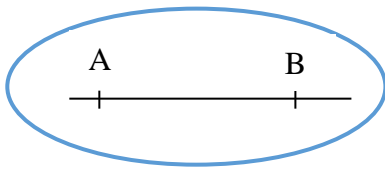
Họ và tên:

Lớp: HAI/

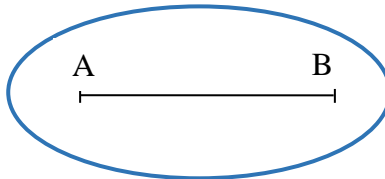
TOÁN

Ôn tập về hình học

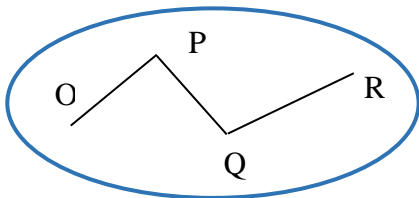
Bài 1: Mỗi hình sau ứng với tên gọi nào?



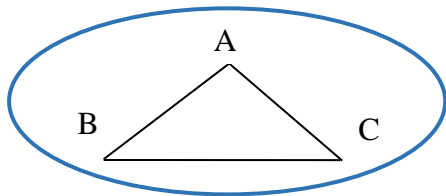
A



B

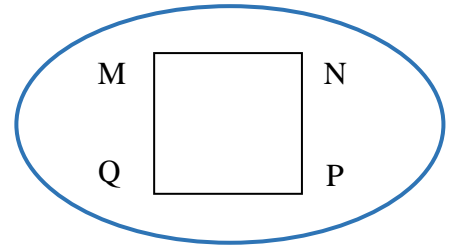


C

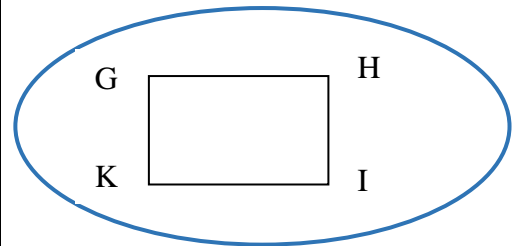


D

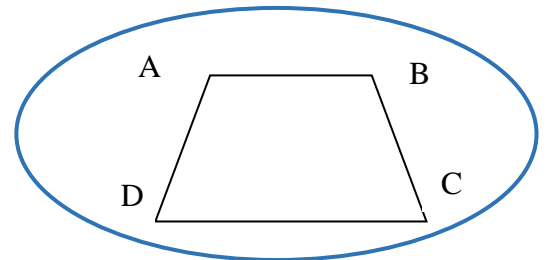
Đoạn thẳng AB
Đường thẳng AB
Đường gấp khúc OPQR
Hình tam giác ABC
Hình tứ giác ABCD
Hình vuông MNPQ
Hình chữ nhật GHIK



E

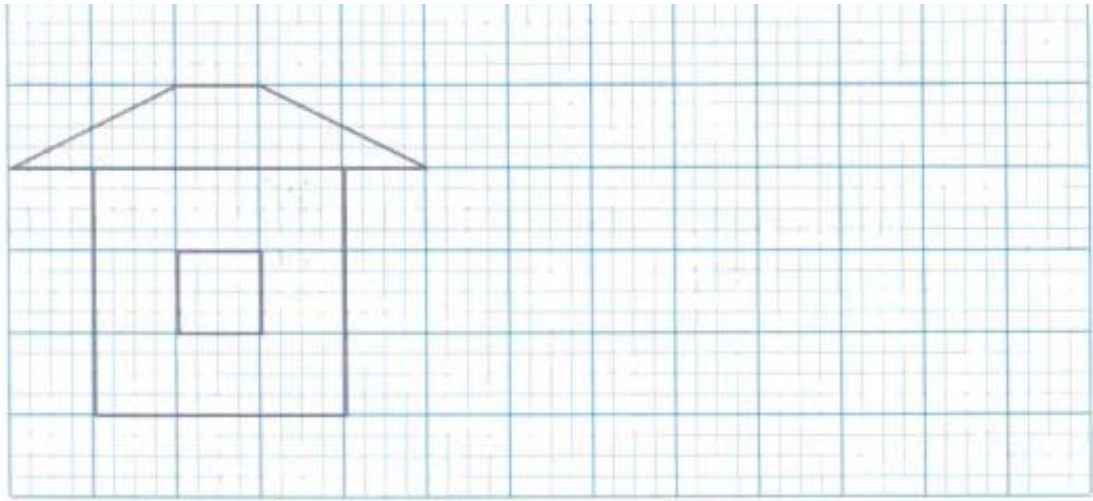


F



H

Bài 2: Vẽ hình theo mẫu:



Bài 3: Trong hình vẽ bên có:

a) Máy hình tam giác?

b) Máy hình chữ nhật?

