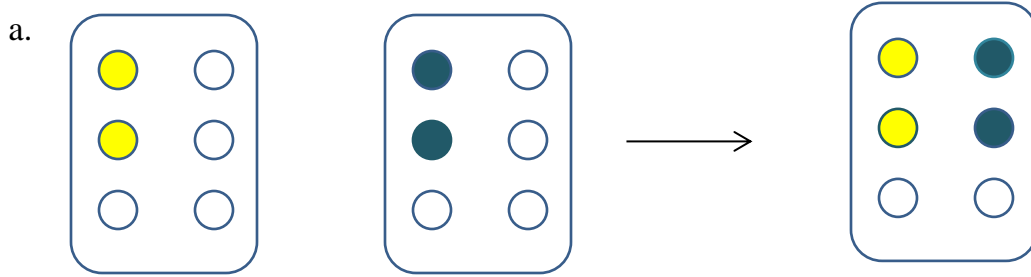
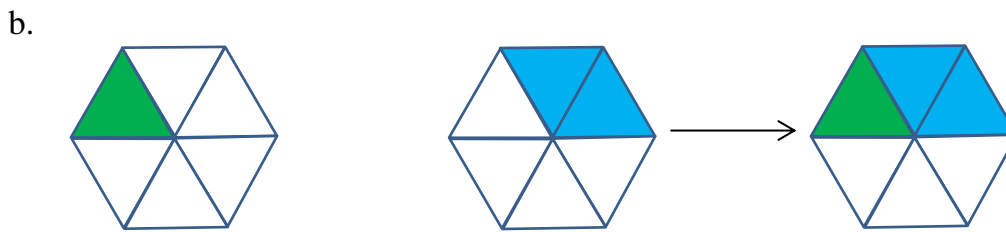


PHÉP CỘNG PHÂN SỐ (Thứ 4 – Tuần 23)

Bài 1: Tính và tô màu (theo mẫu)



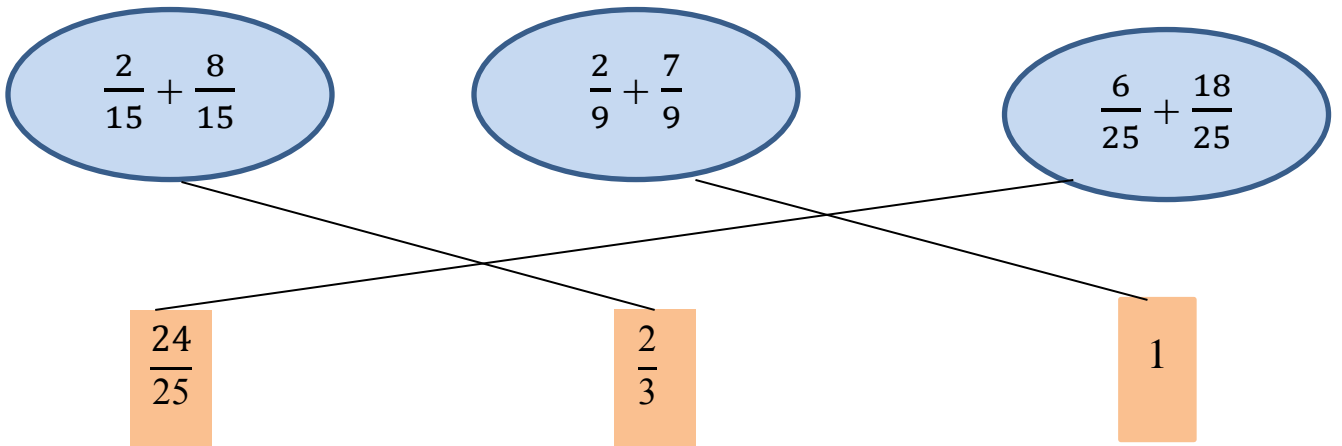
$$\frac{2}{6} + \frac{2}{6} = \frac{4}{6}$$



$$\frac{1}{6} + \frac{2}{6} = \frac{3}{6}$$

Bài 2: Tìm kết quả phù hợp của phép tính.

$$\frac{2}{15} + \frac{8}{15} = \frac{2+8}{15} = \frac{10}{15} = \frac{2}{3}; \quad \frac{2}{9} + \frac{7}{9} = \frac{9}{9} = 1; \quad \frac{6}{25} + \frac{18}{25} = \frac{6+18}{25} = \frac{24}{25}$$



Bài 3: Tính tổng:

a. $\frac{2}{3} + \frac{4}{3} = \frac{2+4}{3} = \frac{6}{3} = 2$

d. $\frac{3}{10} + \frac{1}{10} = \frac{3+1}{10} = \frac{4}{10} = \frac{2}{5}$

b. $\frac{5}{4} + \frac{1}{4} = \frac{5+1}{4} = \frac{6}{4} = \frac{3}{2}$

e. $\frac{6}{8} + \frac{2}{8} = \frac{6+2}{8} = \frac{8}{8} = 1$

c. $\frac{3}{5} + \frac{7}{5} = \frac{3+7}{5} = \frac{10}{5} = 2$

f. $\frac{2}{7} + \frac{1}{7} = \frac{2+1}{7} = \frac{3}{7}$

Bài 4: Một ô tô, ngày đầu đi được $\frac{2}{5}$ quãng đường, ngày sau đi được thêm $\frac{1}{5}$ quãng đường nữa. Hỏi cả hai ngày ô tô đi được mấy phần quãng đường?

Bài làm

Cả hai ngày ô tô đi được số phần quãng đường là:

$$\frac{2}{5} + \frac{1}{5} = \frac{3}{5} \text{ (phần)}$$

Đáp số: $\frac{3}{5}$ phần

Bài 5: Hoàn thành các phép tính sau để giúp Tom bắt được Jerry các em nhé!

Em hãy tô màu để giúp Tom và Jerry được xinh đẹp hơn!

